

<範圍：第一章~第二章>

【劃卡代號：52】

班級：

座號：

姓名：

參考範例：

※答案卡限用 2B 鉛筆劃記，答案請劃記明確；若有劃記錯誤，請擦拭乾淨。分數以電腦讀卡分數為準。

※請作答於答案卷上，考試完畢僅繳交答案卷，請不要填錯格。

一、選擇題(第 1~32 題 3 分，第 33 題 4 分，滿分 100)

1. 下列地形敘述，何者為東南亞與南亞的共同特色？

- (A) 地形與中國一脈相承，地勢北高南低
- (B) 受世界最高山脈阻隔，有次大陸之稱
- (C) 皆位於板塊接觸帶，常發生地震災害
- (D) 地處熱帶，多珊瑚礁島，富漁業資源

2. 該國國名源自希臘文，意指「印度洋中的島國」；

由 17,000 多個島嶼組成，有「萬島之國」的稱號；由空中俯瞰，在印度洋與太平洋間形成一條微笑曲線，被稱為「眾神遺落的珍珠」。上文所指為何國？

- (A) 印尼 (B) 菲律賓 (C) 斯里蘭卡 (D) 馬爾地夫

※請參考右圖回答第 3~4 題：

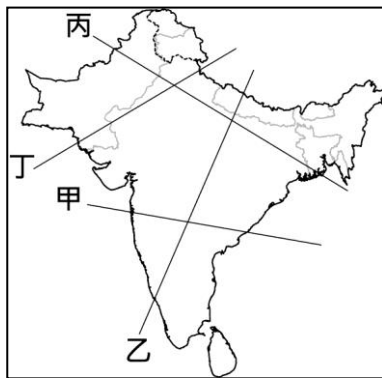
3. 南亞地形分為三大部分，包含高山、平原與高原。若欲走訪南亞三大地形區，應沿圖中哪條剖面線安排行程？

- (A) 甲 (B) 乙 (C) 丙 (D) 丁

4. 沿圖中丙剖面線由東往西

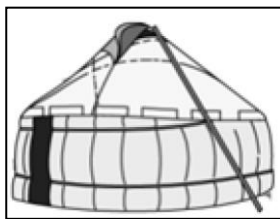
行進，沿途可見何種景觀變化？

- (A) 降水量愈來愈多 (B) 年均溫愈來愈高
- (C) 由水稻轉作小麥 (D) 人口數愈來愈多



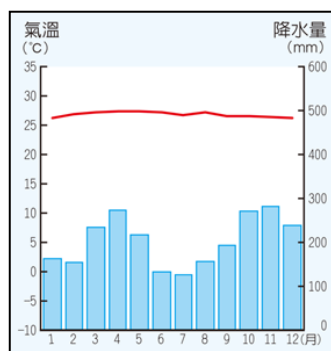
5. 下列關於中南半島與印度半島共同的氣候特色敘述，何者正確？

- (A) 國土皆位赤道兩側，全年高溫
- (B) 因應濕熱氣候傳統住屋如右圖
- (C) 副熱帶高壓籠罩形成熱帶沙漠
- (D) 降水深受季風影響，夏雨冬乾



6. 右圖為「吉隆坡氣候圖」，由圖中資料分析，下列敘述何者正確？

- (A) 降水量受地形及季風影響
- (B) 對流旺盛，全年高溫多雨
- (C) 雨林密布，年、日溫差大
- (D) 跨回歸線兩側，多地形雨



7. 印度的乞拉朋吉有「世界雨極」之稱，年降水量超過 10000mm，世界年均降水量名列前茅。其主要降水類型為何？

- (A) (B) (C) (D)



8. 被列為世界七大奇蹟的印度泰姬瑪哈陵每年吸引大量遊客前往，大多數遊客會選擇在較為涼爽乾燥的時間參觀。下列哪個時間為其旅遊旺季？

- (A) 3月~5月 (B) 6月~8月 (C) 8月~11月
- (D) 12月~2月

※近年來臺灣引進許多來自東南亞地區的國際移工，下列是四位在臺灣工作的移工的自我介紹。請參考其內容及東南亞國家分布圖，回答第 9~12 題：

- 甲：我的國家積極推廣佛教，男生要到廟裡當過短期的和尚才能稱為男人。
- 乙：每天固定向麥加的朝拜，包住頭髮使穿著符合宗教教義，讓我在異地的心情更安定。
- 丙：西班牙殖民帶來天主教信仰，美國殖民使我的國家成為亞洲學習英文的聖地。
- 丁：鄰近中國，影響我們的食衣住行，但法國人帶入的飲食、語言及產業模式也影響很大。

9. 甲移工最可能來自哪個國家？

- (A) 馬來西亞 (B) 新加坡 (C) 印尼 (D) 泰國

10. 身處臺灣的乙移工要定時向麥加方向朝拜，應朝哪個方向膜拜？

- (A) 東方 (B) 西方 (C) 南方 (D) 北方

11. 丙移工在臺灣新聞中發現許多和家鄉類似的情形，因此倍感親切。上述提及的類似情形包括下列何者？(甲)颱風(乙)地震

- (丙)寒流(丁)土石流
- (A) 甲乙丙丁 (B) 甲乙丙 (C) 甲乙丁
- (D) 乙丙丁

12. 丁移工的故鄉位於右圖中何處？

- (A) 子 (B) 丑 (C) 寅 (D) 卯



13. 臺菜料理名店鼎泰豐已在馬來西亞、印尼及西亞等國開了十多家分店，為了配合當地民眾的宗教信仰及飲食習慣，其食材皆需取得下列哪項認證？

- (A) (B) (C) (D)



14. 英國經濟學家提出「未來 11 國」(N-11) 的概念，包括：孟加拉、埃及、印尼、伊朗、墨西哥、奈及利亞、巴基斯坦、菲律賓、土耳其、南韓及越南等國，其經濟發展潛力可能超越金磚四國。「未來 11 國」中有位於東南亞及南亞的國家共有幾個？

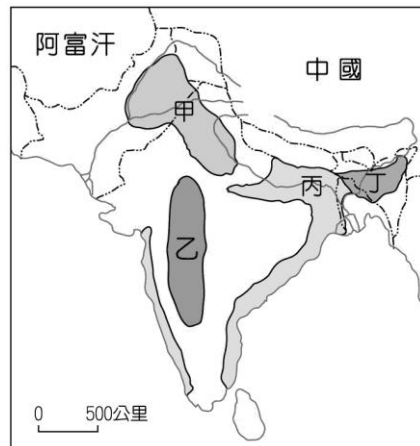
- (A) 2 (B) 3 (C) 4 (D) 5

※印尼流行種植一種「黃金作物」，因為栽種容易，加工價值高，是世界上最主要的經濟作物之一。其果肉與核仁都能榨取、提煉，廣泛應用於食品(如巧克力、麵包等)、食用油、生質能源、化妝品(如洗髮精、口紅等)、加工食品、清潔劑、工業用潤滑油等方面。該作物適合生長在濕熱低窪的環境，印尼、馬來西亞為增加種植面積，大規模砍伐、焚燒熱帶雨林，不僅加速全球暖化，也將導致紅毛猩猩等雨林物種瀕臨滅絕。

印尼長年深受空汙毒害。首都雅加達數個月以前才再次「榮登」全球空汙最嚴重城市。每年7到10月，印尼的熱帶雨林都會傳出惡火肆虐，印尼災難級的霾害，不只造成國內經濟財產的損失，嚴重威脅國民的健康，還隨著季風吹拂，衝擊馬來西亞、新加坡等鄰近國家。請參考上文回答第15~17題：

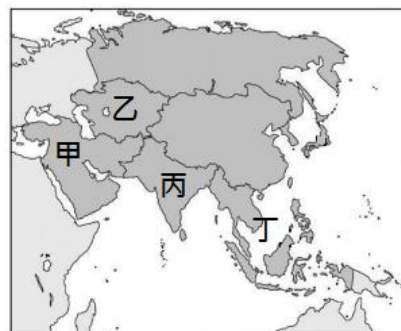
15. 文中的「黃金作物」所指為何？
 (A)椰子 (B)咖啡 (C)橡膠 (D)油棕
16. 文中提到霾害會隨著季風吹拂，影響馬來西亞、新加坡等國。該季風方向為何？
 (A)西南 (B)西北 (C)東南 (D)東北
17. 受西方國家殖民統治影響，熱帶栽培業為東南亞地區的重要產業。下列關於熱帶栽培業的敘述何者「錯誤」？
 (A)易受國際市場價格波動影響，風險性高
 (B)橡膠、咖啡、甘蔗、油棕等為主要作物
 (C)大規模種植單一作物，屬於粗放農業
 (D)濕熱氣候與大量廉價勞動力有利其發展

18. 右圖為南亞農業分布圖。某國際貿易公司專門至圖中丁地採購原料再銷回臺灣，該公司主要販售的產品為何？



- (A)小麥 (B)水稻
 (C)棉花 (D)紅茶
19. 妮塔是住在南亞的印度教徒，下列關於她日常生活的敘述，何者正確？
 (A)背著純牛皮製的皮包去逛街
 (B)在麥當勞點雞肉大麥克漢堡
 (C)出生時即決定社會階級與職業
 (D)請伊斯蘭教的朋友吃豬肉咖哩

20. 承上題，妮塔的家應位於右圖中何處？



- (A)甲 (B)乙 (C)丙
 (D)丁

※下表為2020年東南亞國家協會所有成員國的基本資料，請參考下表回答第21~23題：

排名	國家	人口(百萬)	面積(km ²)	人均GDP(美元)
1	新加坡	5.743	724	69,129
2	汶萊	0.463	5,765	33,097
3	馬來西亞	33.782	329,847	12,295
4	泰國	70.078	513,120	8,356
5	印尼	274.859	1,904,569	4,538
6	越南	99.223	331,210	4,187
7	菲律賓	110.489	300,000	3,676
8	寮國	7.481	236,800	2,757
9	柬埔寨	15.993	181,035	1,749
10	緬甸	53.886	676,000	1,170

21. 汶萊是東協中面積及人口數都很迷你的國家，也是全世界最富有的國家之一。其人均GDP自1970年代起即遠高於東協多數國家，且國民無須繳交個人所得稅。汶萊長時間維持高經濟產值的主因為何？
 (A)大量外銷錫礦賺取外匯(B)地處跨洋貿易重要節點
 (C)廉價勞力吸引外資投入(D)出口石油及天然氣致富
22. 新加坡土地面積小，但因具某項優越條件，加上政策配合，成功推動新加坡煉油產業快速發展，現已成為世界第三大煉油中心。文中所述的優越條件為何？
 (A)海運便利，地理位置佳 (B)為東協主要石油生產國
 (C)廉價勞力吸引外資設廠(D)重工業國內市場需求大
23. 東南亞國協的英文簡稱為何？
 (A)EU (B)ACEP (C)RCEP (D)ASEAN

※蘋果公司正在擺脫產業鏈過度依賴中國的狀況，中美科技戰導致企業將產業鏈轉移至南亞與東南亞，而擁有廉價勞動力、具有技術人才的★國成為許多科技大廠的新寵，且該國也祭出許多吸引投資的方案，包括與富士康(鴻海)洽談，盼能於該國卡納塔克邦設廠。請根據上文回答第24~26題：

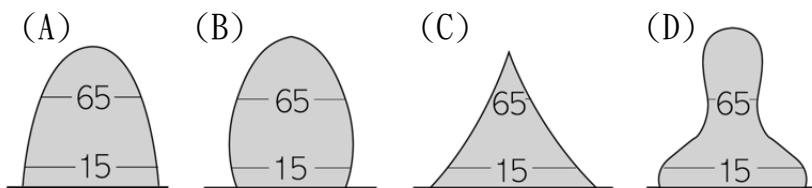
24. 文中提及的★國指的是？
 (A)孟加拉 (B)越南 (C)印尼 (D)印度
25. 除了具有薪資低且技術佳的專業勞動力外，下列何者「並非」支持★國軟體工業發展的優勢？
 (A)英語為該國官方語言 (B)政策支持人才培育
 (C)蘊藏多元豐富的礦產 (D)與歐美的時差優勢
26. ★國的軟體工業中心位於哪個都市？
 (A)加爾各答 (B)胡志明市 (C)邦加羅爾 (D)孟買
27. 聯合國人類居住規劃署對貧民窟的定義為：「以低標準和貧窮為基本特徵之高密度人口聚居區」。導致近年東南亞及南亞的大都市皆出現此問題的主因為何？
 (A)出生率高，人口總數及人口密度高
 (B)大量人口隨經濟發展湧入都市謀生
 (C)宗教制度影響社會階級與生活範圍
 (D)基礎設施不足，引發嚴重環境問題

※東南亞與南亞近年來成為國際政治關注的重點區域之一，它們的人口紅利在過去 20 年來逐漸成為支撐全球供應鏈的生產基地，大量外資與技術投入，各國經濟能量快速成長，更打造出跨國與跨區域的新興市場。成立於 1967 年的東南亞國家協會，歷經 50 年的磨合，於 2015 年底，正式建成東協共同體，涵蓋了經濟、政治安全以及社會文化等架構，標誌出東南亞集體行動的新藍圖與新未來。

1985 年成立的南亞區域合作聯盟，現有阿富汗、孟加拉、不丹、印度、馬爾地夫、尼泊爾、巴基斯坦和斯里蘭卡等 8 國。儘管各國間仍存有緊張情勢，區域國家還是期待在觀光、農業、環境與災害、經貿與金融、資訊與扶貧、能源、交通、教育、科技、安全、社會與文化等領域推動交流，加強成員國之間合作成果。不可否認地，這兩股在亞洲南沿醞釀多年的合作趨勢，由內而外地改變東南亞、南亞與亞洲在全球政經版圖中的權重。

請參考上文回答第 28~30 題：

28. 龐大的人口紅利是東南亞及南亞經濟發展的優勢，下列何圖最能呈現此區的人口結構特色？



29. 根據上文內容判斷，下列敘述何者最符合東南亞與南亞近年的經濟發展趨勢？

- (A) 著重內需市場 (B) 彼此區域結盟
(C) 保護主義興起 (D) 大量輸出勞力

30. 南亞各國成立區域合作聯盟以推動交流與合作，但受彼此間緊張情勢影響，使聯盟進度發展緩慢。下列何者「並非」導致南亞各國彼此紛爭不斷的原因？

- (A) 種族、宗教的差異 (B) 爭奪喀什米爾主權
(C) 領土及水源的衝突 (D) 糧食生產無法自給

31. 東南亞及南亞人口總數達 27 億，超過世界人口總數的 1/3，是充足的勞力也是快速成長的新興市場。下列哪個標題最能代表當地新興市場的發展潛力？

- (A) 印尼 Gojek 網絡平台變身 Goto 瞄準東南亞
(B) 亞洲少子化，台、日、韓間掀「搶工大戰」
(C) 解糧荒！臺灣將自南亞及東南亞進口稻米
(D) 台灣參加印度高教展盼吸引學生赴台深造

32. 南亞各國在經濟快速發展的同時出現許多環境問題。下列環境問題中，何者是南亞各國急需解決的環境問題？(甲)空氣汙染(乙)河川汙染(丙)火山爆發(丁)土壤鹽鹼化(戊)海平面上升(己)低窪地區洪患
(A) 甲乙丙丁戊己 (B) 甲乙丁戊己 (C) 乙丙丁戊己
(D) 乙丁戊己

33. 右圖為南亞礦產分布圖。印度知名的塔塔鋼業公司和塔塔汽車公司總部皆位於哲雪鋪(圖中圈起處)。該地因具備何種區位優勢，而發展成印度著名的「煉鋼城」？
(A) 勞力 (B) 市場
(C) 原料 (D) 交通

